





**Università degli Studi di Catania**  
**Prova di ammissione al primo anno**  
**dei Corsi di Laurea del Dipartimento**  
**di Economia e Impresa**

**NON STRAPPARE**  
**L'INVOLUCRO DI PLASTICA PRIMA CHE VENGA**  
**DATO IL SEGNALE DI INIZIO DELLA PROVA**

**Incollare sulla scheda delle risposte**  
**il codice a barre sottostante:**

**Codice questionario**



## BRANO EA 57

**Leggere il brano e rispondere a ogni quesito solo in base alle informazioni contenute (esplicitamente o implicitamente) nel brano e non in base a quanto il candidato eventualmente conosca sull'argomento.**

L'indice di fiducia generale dell'economia nell'Eurozona è sceso a luglio di 5,3 punti a quota 89,5, registrando il maggiore calo mensile dall'ottobre 2001 e il livello più basso da marzo 2003. Il peggioramento ha coinvolto tutti i settori e la flessione più forte si è registrata nei servizi. Nessun Paese è stato risparmiato, ma a frenare di più sono state Italia (-9,6 punti, a 85,4) e Gran Bretagna (-7,2 punti, a 85,5). La fiducia è scesa anche in Francia (-4,7), Germania (-4,2), Paesi Bassi (-3,9) e Polonia (-1,9). Lieve ripresa in Spagna (+1,2), ma l'indice resta sotto la media di lungo periodo. L'indicatore cala in misura ancora maggiore nella UE a 27 (-5,8% punti, a 88,7). Una forte flessione si registra anche per quanto riguarda la fiducia delle imprese. Secondo quanto ha reso noto la Commissione europea, l'indicatore relativo alle imprese nella zona dell'euro a luglio ha segnato un ulteriore declino, passando dal -0,13 di giugno a un -0,21, contro un +1,31 dello stesso mese dell'anno scorso. (Archivio Selexi)

- 
- 1** Rispondere al seguente quesito facendo riferimento al BRANO EA 57  
**Tra quelli elencati nel brano, qual è il Paese in cui la fiducia dell'economia nell'Eurozona è scesa meno?**
- A Francia
  - B Italia
  - C Germania
  - D Polonia
- 
- 2** Rispondere al seguente quesito facendo riferimento al BRANO EA 57  
**In base a quanto riportato nel brano si può affermare che:**
- A la fiducia nei Paesi Bassi è scesa di più che in Italia
  - B la fiducia in Francia è scesa di più di quella in Germania
  - C la fiducia in Italia è scesa meno che in Gran Bretagna
  - D la fiducia in Spagna è scesa di più che in Polonia
- 
- 3** Rispondere al seguente quesito facendo riferimento al BRANO EA 57  
**Quale delle seguenti affermazioni è contenuta nel brano?**
- A Il livello di fiducia nell'Eurozona è aumentato rispetto al marzo 2003
  - B Nell'UE a 27 la fiducia è scesa meno che nell'Eurozona
  - C L'indicatore relativo alle imprese ha segnato un ulteriore calo a luglio
  - D La fiducia delle imprese, rispetto a giugno dell'anno scorso, è cresciuta dell'1,31%
- 
- 4** Rispondere al seguente quesito facendo riferimento al BRANO EA 57  
**Quale Paese ha fatto registrare un aumento del livello di fiducia dell'1,2%?**
- A Polonia
  - B Gran Bretagna
  - C Paesi Bassi
  - D Spagna

## BRANO DD 65

**Leggere il brano e rispondere a ogni quesito solo in base alle informazioni contenute (esplicitamente o implicitamente) nel brano e non in base a quanto il candidato eventualmente conosca sull'argomento.**

La leadership è un ruolo particolarmente significativo all'interno di un gruppo e si manifesta in ogni contesto, lavorativo e relazionale, evidenziando l'avvenuta strutturazione del collettivo. Anche in questo caso si è rilevato come variabili personali e ambientali interagiscano per determinare l'emersione di un leader. Egli è infatti riconosciuto dai membri del gruppo come "il più ..." forte abile esperto responsabile ecc.; ma è anche considerato parte integrante del gruppo, con caratteristiche in comune con gli altri membri. Può diventare leader non tanto chi ha il desiderio di comando e possiede le doti relative, ma chi a questo aggiunge la capacità di comprendere-intuire e di rispondere alle necessità del gruppo, realizzandone gli obiettivi e svolgendone i compiti.

Il ruolo di leader è determinante per lo sviluppo di un gruppo e la sua assenza denuncia esplicitamente lo stadio di problematicità di una certa situazione.

Si distinguono fondamentalmente due tipi di leadership, che non sono comunque per forza incarnati da due persone differenti, ma che si evidenziano in due momenti diversi della vita del gruppo. Esistono una leadership emotiva e una funzionale che esprimono e rispondono a diverse necessità del gruppo. Il ruolo di leader, deve essere sottolineato, non è assegnato per elezione, ma si esprime spontaneamente all'interno del gruppo. Inoltre, pur essendo un ruolo che, una volta emerso, ha una certa stabilità – cioè viene interpretato, a lungo se non sempre, dalla stessa persona – non è però per forza fisso per tutta la durata della vita del gruppo.

(Archivio Selexi)

- 
- 5** Rispondere al seguente quesito facendo riferimento al BRANO DD 65  
**Quale delle seguenti affermazioni è deducibile dal brano?**
- A** Alla determinazione di un leader contribuiscono variabili sia ambientali sia personali
  - B** L'emersione di un leader all'interno di un gruppo è del tutto casuale
  - C** La strutturazione di un collettivo rimane invariata per la durata dello stesso
  - D** Il leader deve essere in grado di assecondare i desideri individuali dei singoli membri del gruppo
- 
- 6** Rispondere al seguente quesito facendo riferimento al BRANO DD 65  
**Secondo l'autore, la figura del leader presenta tutte le seguenti caratteristiche tranne una. Quale?**
- A** Cambia frequentemente all'interno di un gruppo
  - B** Si distingue e al tempo stesso assomiglia agli altri membri del gruppo
  - C** Viene individuata spontaneamente dai membri del gruppo
  - D** Emerge in rapporto a variabili personali e ambientali
- 
- 7** Rispondere al seguente quesito facendo riferimento al BRANO DD 65  
**Quale delle seguenti doti si richiede maggiormente a un leader per occupare tale ruolo?**
- A** La capacità di comprendere e soddisfare le esigenze del gruppo
  - B** La capacità di comandare
  - C** L'affermarsi come il più abile ed esperto tra tutti i membri
  - D** La durata e la stabilità della sua appartenenza al gruppo
- 
- 8** Rispondere al seguente quesito facendo riferimento al BRANO DD 65  
**Dalla lettura del brano si evince che, per lo sviluppo di un gruppo, sia determinante:**
- A** l'unanimità nella scelta di un leader
  - B** il ruolo di leader
  - C** la competenza tecnica dei responsabili
  - D** la capacità di problem solving di ognuno dei suoi membri

## BRANO DA 78

**Leggere il brano e rispondere a ogni quesito solo in base alle informazioni contenute (esplicitamente o implicitamente) nel brano e non in base a quanto il candidato eventualmente conosca sull'argomento.**

Il nucleo profondo della globalizzazione riguarda la struttura dell'economia che, nella seconda metà del Novecento, si è andata riorganizzando a livello mondiale in tre aspetti decisivi: il mercato, l'impresa e la finanza. Nella prima metà del secolo, il mercato mondiale era frammentato in più centri nazionali gelosamente protetti da tariffe doganali che ostacolavano il libero flusso delle merci straniere e favorivano quelle interne. Dopo la seconda guerra mondiale si sono formate aree aperte al libero scambio delle merci assai più ampie dei territori nazionali, come per esempio il Mercato Comune Europeo e l'EFTA (Paesi scandinavi e altri del Nord e Centro Europa), che dal 1992 si sono uniti nello Spazio economico europeo (SEE). Iniziative analoghe sono sorte nell'America latina, nel Sudest asiatico, in Africa e, ultima in ordine di tempo, è stata realizzata l'aggregazione dei Paesi nordamericani (Canada, USA e Messico), che nel 1993 hanno costituito l'area di libero scambio NAFTA. La tendenza di questi ultimi anni è decisamente orientata alla liberalizzazione mondiale degli scambi in tutti i settori produttivi e dei servizi.

Anche l'impresa ha subito un analogo processo di globalizzazione. La prima rivoluzione industriale aveva generato grandi imprese, quali la Ford negli Stati Uniti, la Volkswagen in Germania, la Fiat e la Pirelli in Italia, tutte caratterizzate come industrie nazionali con grandi stabilimenti che concentravano migliaia di lavoratori nei luoghi dove erano sorte dal nulla. Oggi una grande azienda è articolata su uno spazio globale e assume una struttura "polverizzata" e "transnazionale". Le diverse fasi di progettazione, direzione, produzione e commercializzazione, funzioni in passato concentrate perché potessero essere meglio controllate, sono oggi disseminate sul globo terrestre secondo criteri di ottimizzazione dei costi e delle risorse; la rete telematica assolve la funzione di passaggi di ordini e informazioni e di controllo, che nella fabbrica tayloristica era affidata agli uffici e ai capi reparto.

La struttura finanziaria, infine, che si è ristrutturata per rispondere alle esigenze dell'impresa transnazionale, è quella che più di altri settori ha beneficiato della rete telematica. Le Borse, templi nazionali del mercato del denaro, non appaiono più come quelle sale frenetiche dove urla e gesti si incrociano e sovrappongono per vendere e acquistare titoli. Mille miliardi di dollari al giorno vengono scambiati con ordini impartiti dalle tastiere dei computer e viaggiano alla velocità della luce senza spostare un foglio di carta. Questo enorme valore in denaro, che serve per finanziare imprese e produzione, non ha una patria: non è né italiano né tedesco né statunitense e sfugge al controllo politico degli Stati nazionali, da quando nel 1971 fu abbandonata la parità tra dollaro e oro e iniziò un processo di liberalizzazione del movimento dei capitali.

(Archivio Selexi)

- 
- 9** Rispondere al seguente quesito facendo riferimento al BRANO DA 78  
**Nel brano si afferma che la liberalizzazione del movimento di capitali:**
- A** è un effetto della rivoluzione telematica
  - B** coincide con la globalizzazione del mercato
  - C** è tipica del taylorismo
  - D** è un processo che inizia con la fine della parità oro-dollaro
- 
- 10** Rispondere al seguente quesito facendo riferimento al BRANO DA 78  
**Nel brano si afferma che, nella prima metà del XX secolo, il mercato mondiale:**
- A** era formato da aree aperte al libero scambio
  - B** era una giustapposizione di economie nazionali
  - C** era frammentato in numerosi centri internazionali
  - D** aveva dimensioni transnazionali
- 
- 11** Rispondere al seguente quesito facendo riferimento al BRANO DA 78  
**In base a quanto riportato nel brano, secondo quali principi oggi si articola un'azienda su uno spazio globale?**
- A** Secondo la disponibilità di materie prime e risorse
  - B** Secondo regole di ottimizzazione delle spese e delle risorse
  - C** Secondo modalità che consentano la migliore gestione delle risorse umane
  - D** Esclusivamente secondo criteri di miglioramento dei costi

**12 Rispondere al seguente quesito facendo riferimento al BRANO DA 78**

**Qual è il tema centrale del brano?**

- A** I vantaggi della rete telematica
- B** La globalizzazione dell'impresa italiana
- C** La globalizzazione dell'economia
- D** L'evoluzione del mercato nel XX secolo

**BRANO DM 77**

**Leggere il brano e rispondere a ogni quesito solo in base alle informazioni contenute (esplicitamente o implicitamente) nel brano e non in base a quanto il candidato eventualmente conosca sull'argomento.**

In tutta quell'orgia di modernità senza passato, l'America conserva un tratto arcaico che colpisce, perché esibito con totale limpidezza e cinismo: alla base di tutto c'è un'esperienza elementare, archetipica: un uomo vende qualcosa, un uomo compra qualcosa. È come se tutto il grande incendio dell'esistere collettivo sprigionasse da quella scintilla originaria. Vendere e comprare. Poi viene tutto il resto. Senza pudore, senza moralismo.

Va da sé che in quel particolare gioco, vendere e comprare, sono, laggiù, dei maestri. Non è un lavoro, è una libidine. Un esercizio della fantasia. Un'arte. Dal gran bazar infinito mi sono portato via due microstorie che sono un niente, ma forse raccontano tutto. La prima racconta di ketchup.

Vai a mangiare, a un certo punto decidi di rovinarti ulteriormente, aggiungendo ketchup, prendi la bottiglia, la apri, e lei è piena. Non dico proprio sempre. Ma nove volte su dieci: è piena fino al bordo. Sembra una magia, ma il trucco c'è. Hanno deciso che deve essere sempre piena. Per cui i camerieri, nel retro, occupano le pause svuotando una bottiglia nell'altra, che non è affatto una cosa semplice, chiunque può capirlo, ma loro sono dei maestri e con pazienza certosina producono da dieci bottiglie usate tre che sembrano nuove e sette vuote, da buttare. Le tre nuove, sono quelle che poi ti ritrovi sul tavolo. Un lavoro idiota, se uno ci pensa. Ma per loro importantissimo. Mi sono chiesto perché. E l'ho capito quando mi sono ricordato una cosa: di quando, qui, decidi che vuoi un po' di senape e apri il barattolo e il barattolo è semivuoto, con la senape tutta disordinata e le orme di forchette altrui. Non è che proprio ci fai caso, ma nel doppio fondo della tua percezione qualcosa passa, quasi impercettibilmente, ed è un senso di cosmica tristezza. In quel barattolo imperfetto c'è scritto che non stai vivendo nel migliore dei mondi possibili, a caratteri minuscoli, ma c'è scritto. Quando sei seduto a un tavolo in America, e mangi un hamburger, quello che ti vendono insieme all'hamburger è anche la sensazione che stai vivendo nel migliore dei mondi possibili. Te lo scrivono da tutte le parti, e con caratteri quasi invisibili anche nella bottiglia di ketchup. Piena. È chiaro adesso perché non deve essere altro che piena?

Seconda microstoria. I grattacieli a Los Angeles non sono molti, perché il centesimo piano di un grattacielo non è il posto ideale da cui assistere a un terremoto. Non sono molti ma ci sono, in centro. Proprio sotto c'è un locale in cui si mangia, una costruzione a un piano, con l'aria vecchiotta e un po' sporca. Si chiama Pantry, che vuol dire dispensa. Sulle tazze c'è scritto: dal 1924, mai chiuso; sui tovaglioli: sempre aperti, mai senza clienti. Il bello è che è vero. Quelli è dal 1924 che danno da mangiare e non hanno mai chiuso un minuto. A un certo punto la città di L.A. li informò che erano spiacenti, ma da lì doveva passare la nuova freeway e che dovevano trasferirsi. Era il 1950 e non fecero una piega. Presero un locale a 50 metri da lì. Il giorno stabilito servirono il pranzo nel posto vecchio e alle cinque lo chiusero. Un minuto prima avevano aperto quello nuovo e lì servirono la cena. Mai chiuso. Tre dollari e 99 per uova, patate, toast e caffè. Il mito, quello è gratis. Impagabile.

(Alessandro Baricco, "Barnum", Feltrinelli)

**13 Rispondere al seguente quesito facendo riferimento al BRANO DM 77**

**La bottiglia di ketchup:**

- A** tre volte è piena e sette volte è vuota
- B** è semivuota
- C** ha il doppio fondo
- D** nove volte su dieci è piena

**14 Rispondere al seguente quesito facendo riferimento al BRANO DM 77**

**Dove è ambientata la storia di Pantry?**

- A** Nei grattacieli del centro di Los Angeles
- B** Nella dispensa di un ristorante
- C** Nei pressi della freeway di Los Angeles
- D** In uno dei pochissimi grattacieli di Los Angeles

- 15 **Rispondere al seguente quesito facendo riferimento al BRANO DM 77**  
**A che ora viene aperto il nuovo locale di Pantry nel 1950, secondo quanto raccontato nel brano?**
- A** Alle 17:01
  - B** Alle 16:59
  - C** All'ora di cena
  - D** Alle 17 in punto

- 16 **Rispondere al seguente quesito facendo riferimento al BRANO DM 77**  
**Nel brano si afferma che, in America, è importante comunicare la sensazione di vivere nel migliore dei mondi possibile. Quale immagine utilizza l'autore per esemplificare questo fatto?**
- A** Il cameriere sul retro che svuota le bottiglie
  - B** Il barattolo di senape
  - C** L'hamburger condito con il ketchup
  - D** La bottiglia di ketchup

### BRANO EB 39

**Leggere il brano e rispondere a ogni quesito solo in base alle informazioni contenute (esplicitamente o implicitamente) nel brano e non in base a quanto il candidato eventualmente conosca sull'argomento.**

Tra un po' bisognerà cambiarle il nome, poiché la carta d'imbarco sarà sempre meno cartacea. A fare un ulteriore passo avanti verso la smaterializzazione del biglietto aereo è Air France, che lancia la carta d'imbarco sul cellulare, un'innovazione presentata come una prima mondiale su voli internazionali andata e ritorno nella tratta Parigi-Amsterdam. Il viaggiatore dovrà così presentarsi alla porta d'imbarco munito soltanto del proprio telefonino e di un documento d'identità. I dati che appariranno sullo schermo del cellulare saranno quelli di una normale carta (orari, numero del posto assegnato, classe). Il documento elettronico avrà un codice a barre e sarà inviato tramite Sms, MMS o sotto forma di posta elettronica nel caso si disponga di uno smart-phone. Chi ha bagagli da imbarcare lo può fare agli sportelli di check-in dedicati esclusivamente al loro smistamento. I dati sono inoltre archiviati nel sistema elettronico di prenotazione e si può recuperare la carta stampandola dalle macchine del check-in automatico.

(Archivio Selexi)

- 17 **Rispondere al seguente quesito facendo riferimento al BRANO EB 39**  
**Qual è la novità introdotta da Air France sul volo Parigi-Amsterdam?**
- A** La carta d'imbarco sul cellulare
  - B** Il biglietto aereo via web
  - C** La carta d'imbarco via web
  - D** Il biglietto aereo via mms

- 18 **Rispondere al seguente quesito facendo riferimento al BRANO EB 39**  
**In base a quanto riportato nel brano si può affermare che:**
- A** con Air France, sul volo Parigi-Amsterdam, non sarà più necessario effettuare il check-in
  - B** la smaterializzazione del biglietto aereo è il principale obiettivo di Air France
  - C** Air France fa un ulteriore passo avanti verso la smaterializzazione del biglietto aereo
  - D** Air France non avrà più carte d'imbarco cartacee sul volo Parigi-Amsterdam

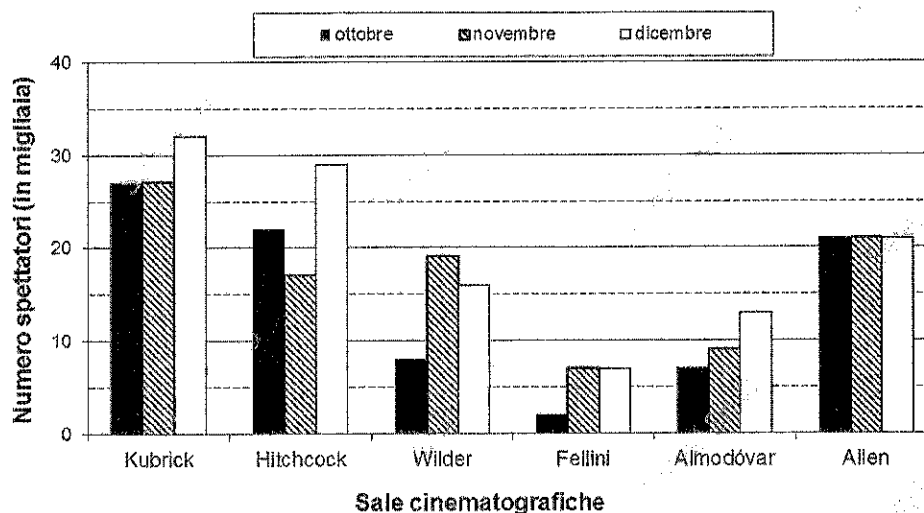
- 19 **Rispondere al seguente quesito facendo riferimento al BRANO EB 39**  
**Quale delle seguenti affermazioni è contenuta nel brano?**
- A** Il viaggiatore dovrà presentarsi al gate di imbarco munito di documento d'identità
  - B** I dati riportati sullo schermo del cellulare sostituiscono il documento d'identità
  - C** Il viaggiatore dovrà presentarsi al gate di imbarco munito solo del documento d'identità
  - D** Solo chi possiede uno smart-phone potrà utilizzare questa nuova carta d'imbarco

- 20 Rispondere al seguente quesito facendo riferimento al BRANO EB 39  
Quale delle seguenti affermazioni non è deducibile dal brano?  
**A** Chi ha bagagli da imbarcare potrà prenotare il posto con uno smart-phone  
**B** La carta d'imbarco potrà essere stampata dalle macchine di check-in automatico  
**C** Chi ha bagagli potrà imbarcarli a sportelli di check-in dedicati  
**D** I dati saranno archiviati nel sistema elettronico di prenotazione
- 
- 21 Risolvere l'equazione lineare  $(x - 3)^2 + 1 = (x + 2)^2 - 4x - 3(x - 1)$ .  
**A**  $x = 0$   
**B**  $x = 1$   
**C**  $x = 2$   
**D** tutti i valori di  $x$
- 
- 22 L'ordine crescente dei numeri  $x = 0,8$ ;  $y = 0,63$ ;  $z = 13/20$ ;  $t = 7/25$  è:  
**A**  $t, y, x, z$   
**B**  $y, t, z, x$   
**C**  $t, y, z, x$   
**D**  $x, z, y, t$
- 
- 23 L'equazione nell'incognita reale  $x$   
 $(x^2 - 3x) / (3 - x) = -2$   
**A** non ha soluzioni  
**B** ha un'unica soluzione uguale a 3  
**C** ha un'unica soluzione diversa da 3  
**D** ha due soluzioni
- 
- 24 Una coppia vuole avere due figli dello stesso sesso; quanti figli deve programmare di fare la coppia per essere sicura che almeno due di essi siano dello stesso sesso?  
**A** Non si può stabilire  
**B** Tre  
**C** Due  
**D** Cinque
- 
- 25 "È assurdo negare l'inesistenza di una prova che scagioni Matteo." La precedente affermazione implica che:  
**A** Matteo è sicuramente scagionabile da una prova  
**B** non esiste alcuna prova che scagioni Matteo  
**C** Matteo non è colpevole  
**D** forse esiste una prova che scagiona Matteo
- 
- 26 Qual è il minimo comune multiplo fra 18 e 54?  
**A** 972  
**B** 108  
**C** 3  
**D** 54

- 
- 27 Un droghiere confeziona 275 sacchetti di caramelle in 5 giorni. Quanti sacchetti di caramelle confeziona in 11 giorni?
- A** 605
  - B** 555
  - C** 1.210
  - D** 125
- 
- 28 Qual è la probabilità di estrarre da un mazzo di 52 carte da gioco una carta che NON sia di cuori?
- A** 10%
  - B** 90%
  - C** 75%
  - D** 80%
- 
- 29 Quanto vale il Massimo Comune Divisore dei numeri 75, 15 e 45?
- A** 15
  - B** 225
  - C** 3
  - D** 75
- 
- 30 La soluzione dell'equazione  $(x + 5) / (x - 7) = 0$  è:
- A**  $x = -5$
  - B**  $x = 7$
  - C**  $x = -7$
  - D**  $x = 5$
- 
- 31 Un televisore con il 35% di sconto costa 520 euro. Il suo prezzo di listino è allora:
- A** 750 euro
  - B** 800 euro
  - C** 900 euro
  - D** 700 euro
- 
- 32 Scrivere l'equazione di secondo grado avente per soluzioni  $x = 5$  e  $x = 7$ .
- A**  $x^2 - 12x - 35 = 0$
  - B**  $x^2 + 12x + 35 = 0$
  - C**  $x^2 + 12x - 35 = 0$
  - D**  $x^2 - 12x + 35 = 0$



**GRAFICO SZ 76**



- 33 Rispondere al seguente quesito facendo riferimento al GRAFICO SZ 76  
**Che cosa esprime il grafico?**
- A** Il numero di film diretti da sei famosi registi nel corso della loro carriera
  - B** La capienza di sei sale cinematografiche intitolate a sei famosi registi
  - C** Il numero di spettatori nei mesi di ottobre, novembre e dicembre in sei sale cinematografiche
  - D** L'aumento di spettatori nei cinema nel mese di dicembre rispetto ai due mesi precedenti

- 34 Rispondere al seguente quesito facendo riferimento al GRAFICO SZ 76  
**Quanti spettatori sono stati nella sala Almodóvar nel mese di dicembre?**
- A** Circa 10.000
  - B** Circa 14.000
  - C** Circa 16.500
  - D** Circa 7.500

- 35 Una nave con 20 passeggeri a bordo porta viveri sufficienti per 60 giorni. Se al momento della partenza i passeggeri fossero 30, per quanti giorni basterebbero gli stessi viveri?
- A** 45
  - B** 30
  - C** 40
  - D** 15

- 36 Se l'affermazione "tutti i musicisti sanno leggere gli spartiti" è FALSA, quale delle seguenti proposizioni è necessariamente vera?
- A** Almeno un musicista non sa leggere gli spartiti
  - B** Nessun musicista sa leggere gli spartiti
  - C** Almeno un musicista sa leggere gli spartiti
  - D** Alcuni cantanti sanno leggere gli spartiti

- 
- 37 Quali, tra i termini proposti, completano correttamente la seguente proporzione verbale? Cavallo : X = toro : Y
- A X = galoppo; Y = trotto
  - B X = zoccoli; Y = piedi
  - C X = puledro; Y = vitello
  - D X = cibo; Y = bevanda
- 

- 38 Il numero decimale illimitato periodico 7,333... è equivalente alla frazione:
- A  $73/10$
  - B  $22/3$
  - C  $73/100$
  - D  $73/9$
- 

- 39 Quanto vale la somma  $5/9 + 3/4$ ?
- A  $8/13$
  - B  $47/36$
  - C  $53/94$
  - D  $93/54$
- 

- 40 Qual è il maggiore tra i seguenti numeri?
- A  $144/8$
  - B  $\sqrt{891}$
  - C 29
  - D  $5^2$
- 

- 41 Per Karl Marx il plusvalore viene prodotto:
- A dalla socializzazione delle imprese private
  - B dalle operazioni finanziarie
  - C dagli investimenti in nuove tecnologie
  - D dal lavoro umano
- 

- 42 Il tema dell'Expo 2015, indicato dallo slogan ufficiale della manifestazione, è:
- A il ruolo dei grandi eventi per lo sviluppo urbano
  - B la risorsa acqua
  - C il futuro delle metropoli mondiali
  - D l'alimentazione su scala planetaria
- 

- 43 L'indice ISTAT del costo della vita è l'indice nazionale:
- A del tasso di interesse annuo
  - B di variazione dei prezzi di acquisto delle case di abitazione
  - C della svalutazione dell'euro
  - D di variazione dei prezzi al consumo
-

---

44 Per quale dei seguenti Paesi la sostituzione della valuta nazionale con l'euro è stata fissata a partire dal 1° gennaio 2002?

- A** Irlanda
  - B** Polonia
  - C** Slovenia
  - D** Gran Bretagna
- 

45 Secondo i vincoli imposti dal trattato di Maastricht il rapporto debito/PIL di un dato Paese membro:

- A** può essere stabilito liberamente da ogni Stato
  - B** può crescere solo se cresce negli altri Paesi membri
  - C** non può superare il rapporto debito/PIL calcolato sulla media dei tre Paesi membri più virtuosi
  - D** non deve superare un tetto massimo pari al 60%
- 

46 Quale dei seguenti Paesi fa parte del G-8?

- A** Giappone
  - B** India
  - C** Cina
  - D** Spagna
- 

47 Qual è l'unico dei grandi Paesi europei ad aver registrato una decrescita nel mercato automobili, nel primo trimestre del 2014?

- A** Francia
  - B** Germania
  - C** Spagna
  - D** Italia
- 

48 La Costituzione italiana prevede un bicameralismo perfetto in quanto il Senato e la Camera dei deputati:

- A** sono composti dallo stesso numero di membri
  - B** sono entrambi eletti direttamente dal popolo
  - C** hanno gli stessi poteri e vanno posti sullo stesso piano di completa parità
  - D** sono eletti con lo stesso metodo elettorale
- 

49 Che cos'è WikiLeaks?

- A** Un'organizzazione senza scopo di lucro che rappresenta una fonte di informazione alternativa che sfrutta Internet per divulgare notizie e documenti riservati
  - B** Un ramo di Wikipedia dedicato alla politica internazionale
  - C** Un'organizzazione terroristica internazionale che agisce tramite la rete
  - D** Un'unione di giornalisti indipendenti che scrivono di argomenti vari (dalla politica allo sport, dalla tecnologia all'ambiente, dalla cucina al giardinaggio)
- 

50 Quale delle seguenti compagnie aeree, nel febbraio 2014, ha mostrato interesse verso l'acquisizione di Alitalia?

- A** Etihad
  - B** Airfrance-KLM
  - C** British Airways
  - D** Lufthansa
-

- 
- 51 **L'organizzazione internazionale identificata dalla sigla OPEC si occupa di regolare:**
- A** l'esportazione del petrolio da parte dei Paesi produttori
  - B** la distribuzione degli aiuti alimentari ai Paesi in via di sviluppo
  - C** le tariffe doganali nei Paesi dell'Unione europea
  - D** il traffico postale internazionale
- 
- 52 **Nel settembre 2013 si è conclusa l'acquisizione di una società produttrice di telefoni cellulari da parte di una società di informatica. Tali società sono, rispettivamente:**
- A** Blackberry e HP
  - B** Nokia e Microsoft
  - C** HTC e Apple
  - D** Motorola e IBM
- 
- 53 **In base alla Costituzione italiana, per quale, fra i seguenti gruppi di leggi, NON è ammesso il referendum?**
- A** Per le leggi in materia penale
  - B** Per le leggi elettorali e di organizzazione degli organi costituzionali dello Stato
  - C** Per le leggi sull'assetto organizzativo della P.A. e delle forze armate
  - D** Per le leggi tributarie e di bilancio, di amnistia e di indulto, di autorizzazione a ratificare trattati internazionali
- 
- 54 **Il potere legislativo, nella Costituzione italiana, è affidato:**
- A** al Parlamento
  - B** alla Magistratura
  - C** al Presidente della Repubblica
  - D** al Governo
- 
- 55 **Con "e-business" si intende/si intendono:**
- A** gli affari economici europei
  - B** il commercio elettronico e tutte le attività di imprese che operano attraverso la rete
  - C** la produzione e commercializzazione di software dedicati a Internet
  - D** i pagamenti tramite PayPal
- 
- 56 **Quale tra i seguenti termini identifica una politica economica che ha come scopo quello di rendere autosufficiente un Paese e di ridurre al minimo la quantità di beni importati?**
- A** Autotutela
  - B** Mercantilismo
  - C** Autarchia
  - D** Autodeterminazione
- 
- 57 **Negli anni recenti le proposte di modifica dell'articolo 18 dello statuto dei lavoratori hanno suscitato in Italia un aspro dibattito poiché si tratta del testo che:**
- A** afferma il principio che il lavoratore non può essere discriminato in base al sesso, alla religione e alla provenienza
  - B** afferma il principio che la Repubblica italiana è fondata sul lavoro
  - C** disciplina le condizioni del licenziamento
  - D** regola la libertà dell'imprenditore di assumere lavoratori precari
-

---

58 Qual è l'indicatore più accurato del benessere economico di una popolazione?

- A Il reddito medio pro capite
  - B La durata della vita media
  - C Il tasso di natalità
  - D Il prodotto interno lordo
- 

59 Che cosa indica la sigla CONSOB?

- A Commissione nazionale per le società e la borsa
  - B Consorzio di organismi nazionali per lo sviluppo e l'organizzazione bancaria
  - C Consiglio nazionale per la sicurezza e l'omologazione dei bilanci
  - D Comitato nazionale delle società operanti in borsa
- 

60 "Le Camere autorizzano con legge la ratifica dei trattati internazionali". È contenuta questa disposizione nella Costituzione italiana?

- A Sì, nelle disposizioni transitorie e finali
  - B No
  - C Sì, ma limitatamente ai trattati conclusi con Paesi non appartenenti alla Comunità europea
  - D Sì, nella sezione relativa alla formazione delle leggi
- 

61 Quale delle seguenti frasi NON contiene errori?

- A Vorrei venire anchio a Parigi con te: non ci sono mai stato
  - B Si stà bene al mare, quando non c'è troppo caldo
  - C Da te non mi sarei mai aspettato un atteggiamento del genere
  - D Appena arriverai quà dovrai vedertela con me
- 

62 Individuare, tra i seguenti nomi composti, quello NON invariabile al plurale.

- A Senzapatria
  - B Guastafeste
  - C Portafoglio
  - D Lustrascarpe
- 

63 Quale tra i seguenti termini è un contrario di "abietto"?

- A Turpe
  - B Aberrante
  - C Vergognoso
  - D Nobile
- 

64 Quale dei seguenti termini può essere un pronome?

- A Lei
  - B Ogni
  - C Bello
  - D Forse
-

---

65 **Identificare, tra le seguenti, la frase che contiene un aggettivo numerale.**

- A** È nata in novembre
- B** Valentino è il primo pilota in classifica
- C** Andiamo allo spettacolo delle dieci
- D** Tra i temporali della settimana questo è il secondo

---

66 **Individuare tra i seguenti il sinonimo di "ieratico".**

- A** Solenne
- B** Sfortunato
- C** Superbo
- D** Passato

---

67 **"Elisabetta è molto precisa a scuola, ma la sua camera è costantemente a soqquadro e non è un buon'esempio d'igene". Quanti errori contiene questa frase?**

- A** Tre
- B** Uno
- C** Due
- D** Nessuno

---

68 **Una delle frasi seguenti NON contiene alcun pronome indefinito: quale?**

- A** Non è venuto nessuno
- B** Ho visto uno vicino alla tua macchina
- C** Credo che tu abbia qualche problema
- D** Vorrei comprare tanti libri nuovi; anzi, me ne bastano alcuni

---

69 **Individuare quale fra le seguenti forme verbali è nel modo condizionale.**

- A** Cederai
- B** Cederesti
- C** Avrai ceduto
- D** Cedessi

---

70 **"Ostico" è un contrario di:**

- A** complesso
- B** facile
- C** utile
- D** incomprensibile

---

71 **"Antonella sembra lieta del regalo ricevuto". Nella frase precedente, "lieta" è:**

- A** complemento oggetto
- B** attributo
- C** predicato nominale
- D** apposizione

---

72 Individuare l'abbinamento NON corretto tra forma singolare e forma plurale.

- A Sobrio – sobri
- B Benefico – benefici
- C Sacrilego – sacrilegi
- D Stantio – stantii

---

73 Individuare quale tra i seguenti sostantivi NON è un sinonimo di "favoreggiamento":

- A connivenza
- B fiancheggiamento
- C protezione
- D complicità

---

74 Un sinonimo di "abulia" è:

- A accidia
- B incoerenza
- C astiosità
- D alterigia

---

75 Individuare, fra le seguenti alternative, il sinonimo della parola "estrinsecare".

- A Radicalizzare
- B Rendere asettico
- C Esplicitare
- D Confessare

---

76 A quale tempo verbale del modo indicativo corrisponde la voce "avremo mosso"?

- A Passato prossimo attivo
- B Trapassato prossimo attivo
- C Futuro anteriore attivo
- D Futuro semplice attivo

---

77 Riconoscere tra le seguenti forme verbali l'infinito passato.

- A Avendo girato
- B Avere
- C Essere mandato
- D Essere riuscito

---

78 Quale delle seguenti frasi contiene un complemento di luogo?

- A Non voglio trattenerti da me più del necessario
- B Ci avete assicurato il vostro appoggio e ora siamo tranquilli
- C Vivere così tutti insieme ci renderà felici
- D Se sei in grado di correre veloce vieni a iscriverti per la gara di domani

- 
- 79 "Brandire" significa:
- A** arrendersi, cedere le armi
  - B** scacciare, allontanare
  - C** mettere da parte, evitare
  - D** impugnare con forza
- 

- 80 Individuare quale fra le seguenti alternative è un participio passato.
- A** Delicato
  - B** Conducente
  - C** Insulso
  - D** Concluso





Prodotto con cellulosa certificata  
FSC

AZIENDA CON SISTEMA  
DI GESTIONE QUALITÀ  
CERTIFICATO DA DNV  
= ISO 9001 =